

ERA UMA VEZ UM LEITÃO QUE SE CHAMAVA CAMILÃO.

ELE NÃO GOSTAVA DE TRABALHAR SÓ QUERIA GANHAR COMIDA DOS OUTROS E EM UM BELO DIA RESOLVEU SAIR PARA PEDIR COMIDA PARA OS AMIGOS E LÁ SE FOI COM UMA CESTA E UM GUARDANAPO.

O PRIMEIRO AMIGO QUE ENCONTROU FOI O CACHORRO FIEL E O CAMILÃO DISSE:

- OI FIEL O QUE VOCÊ ESTÁ FAZENDO?

- EU ESTOU TRABALHANDO CUIDANDO DESSAS MELANCIAS.

- Ó EU AQUI COM TANTA FOME E VOCÊ COM TODAS ESSAS MELANCIAS ACHO QUE VOU DESMAIAR!

DE TANTO QUE O CAMILÃO IMPLOROU O CACHORRO DEU UMA MELANCIA E LÁ SE FOI O CAMILÃO COM UMA CESTA, UMA MELANCIA E O GUARDANAPO POR CIMA.

NA ESTRADA ENCONTROU O BURRO JOCA E DISSE:

- OLÁ JOCA! O QUE VOCÊ ESTÁ FAZENDO?

- EU ESTOU CARREGANDO ESSAS ABÓBORAS.

- Ó E EU AQUI COM TANTA FOME ACHO QUE VOU DESMAIAR!

E TANTO QUE O CAMILÃO IMPLOROU O BURRO DEU DUAS ABÓBORAS.

MAIS À FRENTE ENCONTROU A VACA MIMOSA QUE ESTAVA NO CURRAL E O CAMILÃO PERGUNTOU:

- O QUE VOCÊ ESTÁ FAZENDO MIMOSA?

- EU ESTOU PRODUZINDO QUEIJO E LEITE.

- Ó E EU AQUI COM TANTA FOME ACHO QUE VOU DESMAIAR.

A VACA DEU PARA CAMILÃO TRÊS QUEIJOS E QUATRO LITROS DE LEITE E LÁ SE FOI ELE COM UMA CESTA, UMA MELANCIA, DUAS ABÓBORAS, TRÊS QUEIJOS E QUATRO LITROS DE LEITE E O GUARDANAPO POR CIMA.

ENTÃO ELE ENCONTROU A GALINHA QUIQUI.

- Ó QUIQUI EU ESTOU MORRENDO DE FOME. AJUDE-ME?

- MEUS FILHINHOS O SEU CAMILÃO QUER MILHO!

- Ó MUITO OBRIGADO!

E O PRÓXIMO AMIGO QUE CAMILÃO ENCONTROU FOI O MACACO SIMÃO SÓ QUE ELE ERA MUITO ESPERTO E NÃO ACREDITOU NO PAPO DELE, MAS COMO CAMILÃO IMPLOROU O MACACO DEU SÓ MEIA DÚZIA DE BANANAS.

DEPOIS DE UM TEMPO ELE ENCONTROU A ABELHA ZIZI E COMEÇOU AQUELE PAPO E A ABELHA ACREDITOU E DEU SETE POTES DE MEL E LÁ FOI ELE COM UMA CESTA, UMA MELANCIA, DUAS ABÓBORAS, TRÊS QUEIJOS, QUATRO LITROS DE LEITE, CINCO MILHOS, SEIS BANANAS, SETE POTES DE MEL E O GUARDANAPO POR CIMA.

CONTINUANDO SEU CAMINHO ENCONTROU O COELHO ORELHUDO E O CAMILÃO DISSE:

- Ó MEU AMIGO EU ESTOU MORRENDO DE FOME ACHO QUE VOU DESMAIAR.

O COELHO BOBO DEU OITO ALFACES E NOVE CENOURAS. E LÁ SE FOI CAMILÃO COM SUA CESTA, UMA MELANCIA, DUAS ABÓBORAS, TRÊS QUEIJOS, QUATRO LITROS DE LEITE, CINCO MILHOS, SEIS BANANAS, SETE POTES DE MEL, OITO ALFACES E NOVE CENOURAS E O GUARDANAPO POR CIMA.

DEPOIS ELE ENCONTROU O ESQUILO TICO E COMEÇOU AQUELE PAPO QUE ESTAVA MORRENDO DE FOME E COMO O ESQUILO NÃO ERA MUITO ESPERTO ACREDITOU NO PAPO E DEU DEZ AVELÃS.

231654987.GIF (17311 BYTES)

E LÁ SE FOI NOVAMENTE CAMILÃO COM SUA CESTA, UMA MELANCIA, DUAS ABÓBORAS, TRÊS QUEIJOS, QUATRO LITROS DE LEITE, CINCO MILHOS, SEIS BANANAS, SETE POTES DE MEL, OITO ALFACES, NOVE CENOURAS E DEZ AVELÃS E O GUARDANAPO POR CIMA.

LEIA A HISTÓRIA ACIMA PARA SEU FILHO(A) E REALIZE UMA INTERPRETAÇÃO ORAL, CONVERSE SOBRE OS PERSONAGENS, SOBRE O QUE ACONTECE NA HISTÓRIA....

**EM FOLHA BRANCA PEDIR PARA SEU FILHO (A) DESENHAR A PARTE QUE MAIS GOSTOU DA HISTÓRIA.**

EM SEGUIDA INICIE A REALIZAÇÃO DAS ATIVIDADES, SUGERIMOS UMA FOLHA POR DIA.

SABERES E CONHECIMENTOS: LITERATURA – NUMERAIS E QUANTIDADES –


OBJETIVOS:

- OUVIR COM ATENÇÃO A HISTÓRIA SUGERIDA
- REALIZAR INTERPRETAÇÃO ORAL, INTERAGINDO EM FAMÍLIA
  - EXPRESSAR IDEIAS E OPINIÕES
  - IDENTIFICAR OS ANIMAIS PRESENTES NA HISTÓRIA
  - DESENVOLVER IMAGINAÇÃO E CRIATIVIDADE
- DESENHAR LIVREMENTE O QUE MAIS LHE CHAMOU ATENÇÃO NA HISTÓRIA.
  - IDENTIFICAR NUMERAIS NAS ATIVIDADES PROPOSTAS
    - RELACIONAR NUMERAL E QUANTIDADE
  - REALIZAR A ESCRITA ESPONTÂNEA E SEQUÊNCIA DOS NUMERAIS.
- DESENVOLVER COORDENAÇÃO MOTORA A PARTIR DE HABILIDADES MANUAIS: PINTURA, ESCRITA.

# DESENHO LIVRE SOBRE A HISTÓRIA **CAMILÃO, O CAMILÃO**

# CAMILÃO, O COMILÃO

(Ana Maria Machado)



CAMILÃO SAIU DE CASA COM UMA CESTA  
VAZIA...




QUANTOS ELEMENTOS HÁ NA CESTA? ESCREVA NO  
QUADRADO ABAIXO O NÚMERO CORRESPONDENTE A  
QUANTIDADE DE ELEMENTOS.

# O CACHORRO FIEL DEU A CAMILÃO UMA MELANCIA.



DESENHE QUANTAS MELANCIAS O CAMILÃO COLOCOU DENTRO DE SUA CESTA. EM SEGUIDA ESCREVA O NUMERAL QUE REPRESENTA ESSA QUANTIDADE DENTRO DO QUADRADO.




ESCREVA O NUMERAL QUE VEM ANTES: \_\_\_\_ - 1

CAMILÃO GANHOU DUAS ABÓBORAS DE SEU AMIGO, O BURRO JOCA. LIGUE A QUANTIDADE CORRETA DE ABÓBORAS ATÉ A CESTA:



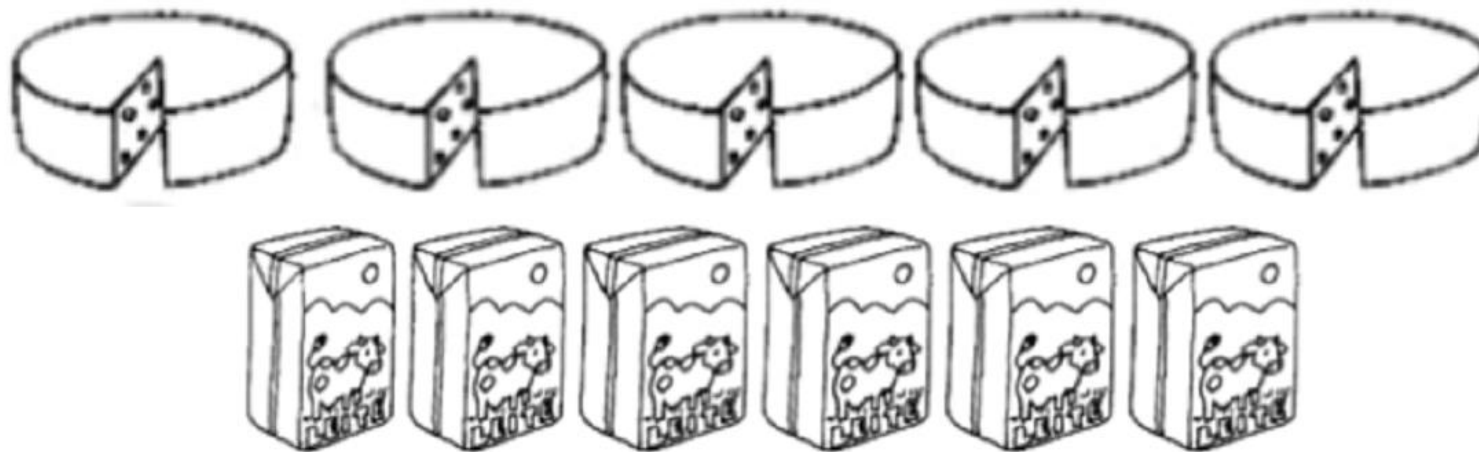
QUANTAS ABÓBORAS JOCA DEU PARA O CAMILÃO?  
REPRESENTE COM O NÚMERAL DENTRO DO CÍRCULO.





ESCREVA OS NUMERAIS QUE VEM ANTE S E DEPOIS:

\_\_\_\_\_ - 1 - \_\_\_\_\_

NO ENCONTRO COM A VACA MIMOSA, O GULOSO DO CAMILÃO GANHOU TRÊS QUEIJOS E QUATRO LITROS DE LEITE.  
PINTA A QUANTIDADE CORRETA DE ELEMENTOS:



QUANTOS ELEMENTOS VOCÊ PINTOU? ESCREVA O NUMERAL DENTRO DO QUADRADO.



AGORA, JUNTE A QUANTIDADE DE QUEIJO MAIS A QUANTIDADE DE LEITE E ESCREVA O TOTAL DE ELEMENTOS QUE CAMILÃO GANHOU.

A GALINHA QUIQUI E SEUS PINTINHOS DERAM A CAMILÃO CINCO ESPIGAS DE MILHO,  
CIRCULE A QUANTIDADE CORRETA.



QUANTAS ESPIGAS DE MILHO APARECEM NO TOTAL NA IMAGEM ACIMA?

QUANTAS ESPIGAS DE MILHO A GALINHA E SEUS PINTINHOS DERAM AO CAMILÃO?


QUANTAS ESPIGAS SOBRARAM SEM CIRCULAR?

COMPLETE COM O QUE VEM ANTES E DEPOIS: 0 - \_\_\_\_\_ - 2 - \_\_\_\_\_ - 4 - \_\_\_\_\_



CAMILÃO TANTO INSISTIU QUE GANHOU SEIS BANANAS DO MACACO SIMÃO.

DESENHE AS BANANAS QUE FALTAM PARA COMPLETAR A QUANTIDADE QUE CAMILÃO GANHOU!



QUANTAS BANANAS HAVIA NO CACHO ANTES DE VOCÊ DESENHAR?

QUANTAS BANANAS VOCÊ DESENHOU?

COM QUANTAS BANANAS O CAMILÃO FICOU DEPOIS QUE VOCÊ COMPLETOU O DESENHO?

ESCREVA A SEQUÊNCIA DE NUMERAIS DE 0 A 6 NO ESPAÇO ABAIXO:

---